





# ผลลัพธ์ของน้องบอท


นับจำนวนน้องบอท เขียนออกมาเป็นตัวเลข แล้วหาผลลัพธ์ของน้องบอท



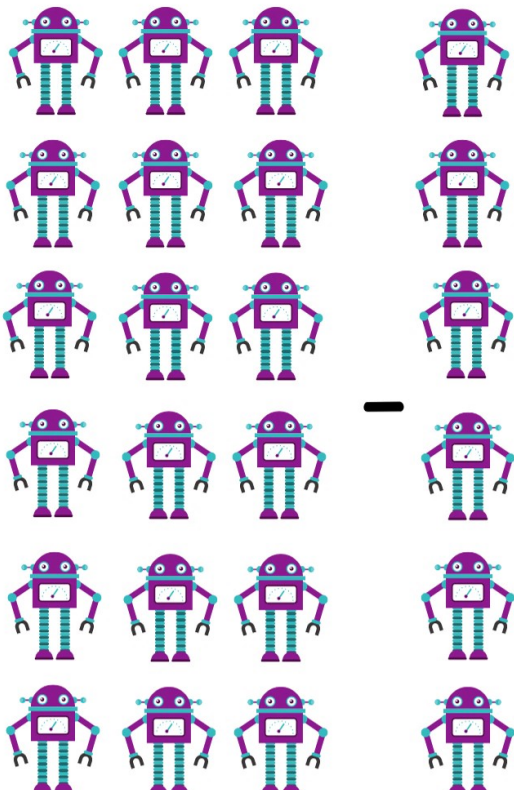
$$\underline{\quad} + \underline{\quad} = \underline{\quad}$$



$$\underline{\quad} - \underline{\quad} = \underline{\quad}$$



$$\underline{\quad} + \underline{\quad} = \underline{\quad}$$



$$\underline{\quad} - \underline{\quad} = \underline{\quad}$$